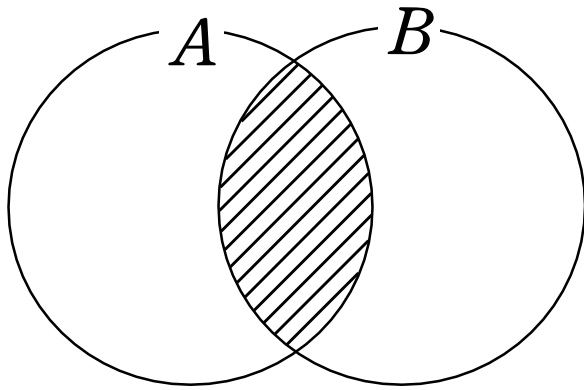


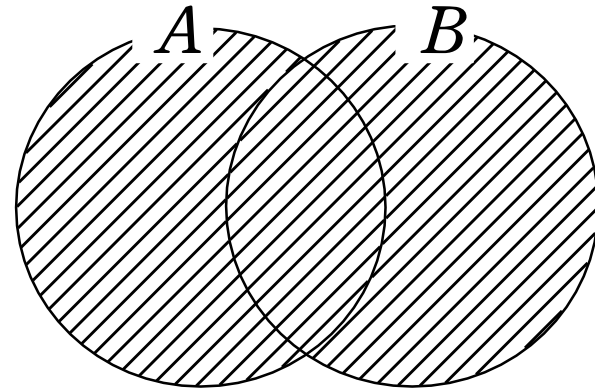
71 【共通部分と和集合】 1/2ページ



A と B の共通部分

A B

A と B の重なっている部分



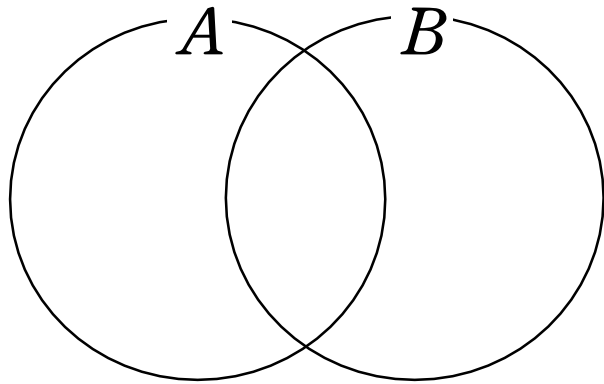
A と B の和集合

A B

A と B の両方

71 【共通部分と和集合】 2/2ページ

例題 集合 $A = \{1, 2, 3, 4, 5\}$, $B = \{2, 4, 6, 8\}$ について,
 $A \cap B$, $A \cup B$ を, $\{ \}$ の中に要素を書き並べて表せ。



$$A \cap B =$$

$$A \cup B =$$